

Mathematik-Arbeitsblatt**Klasse:****29.11.2012****Aufgabe 1 (5Z1.14-004-e)**

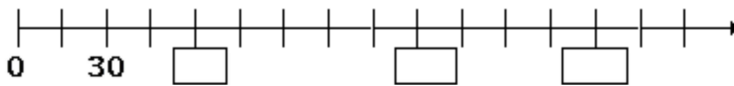
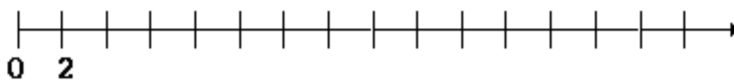
Trage die fehlenden Zahlen ein!

**Aufgabe 2 (5Z1.14-009-e)**

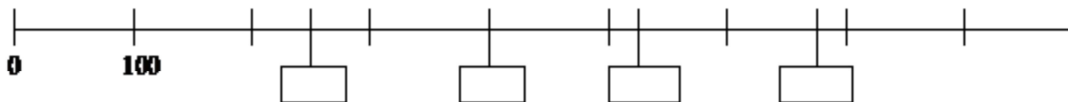
Trage die fehlenden Zahlen ein!

**Aufgabe 3 (5Z1.14-013-m)**

Setze die fehlenden Zahlen ein!

**Aufgabe 4 (5Z1.14-019-m)**Trage folgende Zahlen am Zahlenstrahl ein:
12, 20, 26, 8**Aufgabe 5 (5Z1.14-022-s)**


Trage in die Kästchen die entsprechenden Zahlen ein!

**Aufgabe 6 (5Z1.14-026-s)**


Folgende Zahlen sollen am Zahlenstrahl eingetragen werden!

2 cm \cong 1000

1600, 4500, 3200, 800 (Schreibe die Zahlen dazu!)

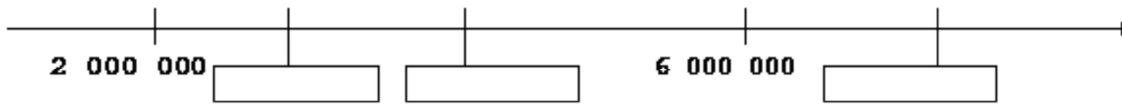
**Aufgabe 7 (5Z1.14-029-s)**Markiere mit kleinen Kreuzchen die folgenden Zahlen und schreibe die Zahlen dazu! (2,5 cm \cong 1000)

800, 1400, 2600, 3500



Aufgabe 8 (5Z1.14-031-s)

Die Kästchen sollen richtig ausgefüllt werden!



|